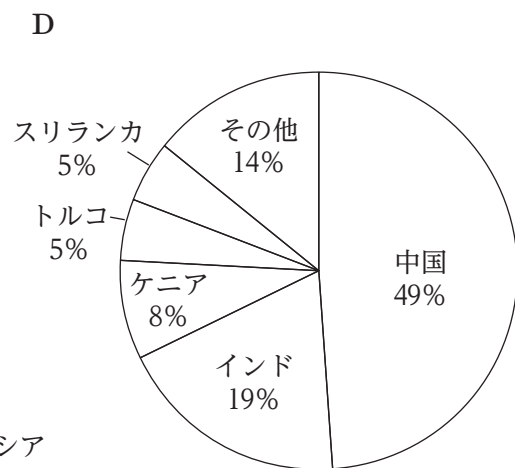
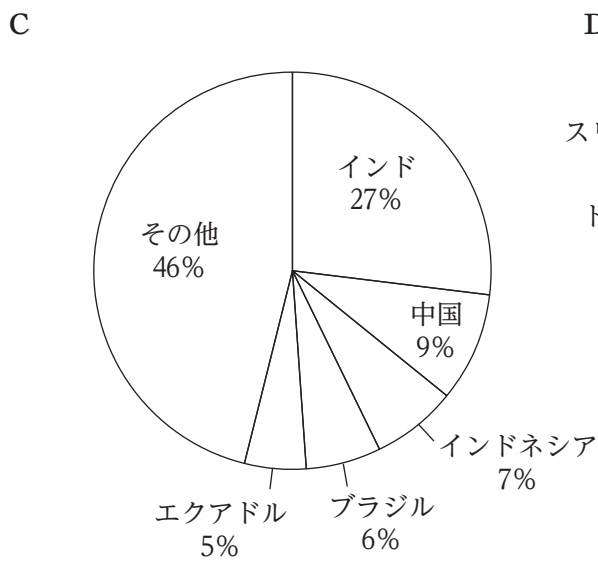
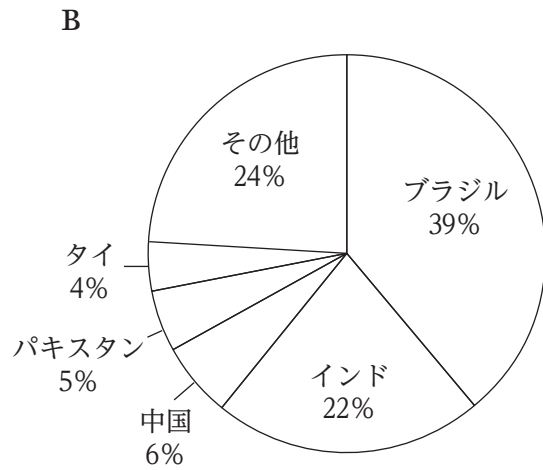
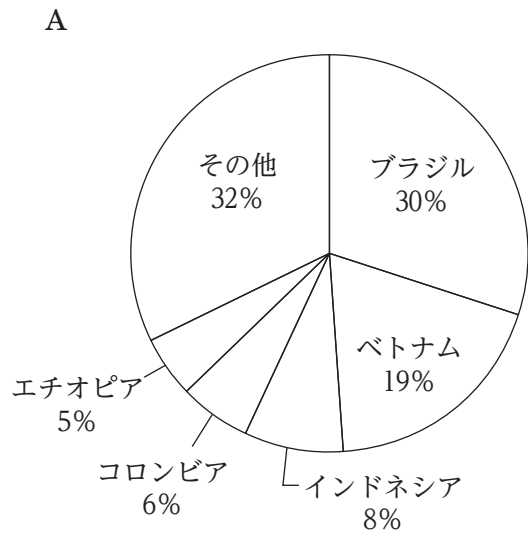


次のグラフ A ~ D は、コーヒー豆、サトウキビ、茶葉、バナナの 2021 年における生産量の国別の割合（上位 5 か国）を示したものである。グラフと品目を正しく組み合わせているのはどれか。



- | | A | B | C | D |
|----|-------|-------|-------|-------|
| 1. | コーヒー豆 | サトウキビ | バナナ | 茶葉 |
| 2. | コーヒー豆 | 茶葉 | バナナ | サトウキビ |
| 3. | コーヒー豆 | バナナ | サトウキビ | 茶葉 |
| 4. | バナナ | コーヒー豆 | サトウキビ | 茶葉 |
| 5. | バナナ | コーヒー豆 | 茶葉 | サトウキビ |