

令和 2 年度 学 力 検 査

C 社 会 (11 時 30 分～12 時 15 分, 45 分間)

問 題 用 紙

注 意

1. 「開始」の合図があるまで開いてはいけません。
2. 答えは、すべて**解答用紙**に書きなさい。
3. 問題は、**1** から **5** までで、13 ページにわたって印刷してあります。
4. 「開始」の合図で、**解答用紙**の決められた欄に**受検番号**を書きなさい。
5. 問題を読むとき、声を出してはいけません。
6. 漢字で書くように指示されている問いに「ひらがな」や「カタカナ」で解答した場合は減点となります。
7. 「終了」の合図で、すぐに筆記用具を置きなさい。

1 次の略地図を見て、あとの各問いに答えなさい。(9点)

〈略地図〉



〔『世界国勢図会 2018/19』ほかから作成)〕

(1) 略地図に示した札幌、ロンドン、ニューヨークについて、資料1は、都市の位置、資料2は、月別平均気温を示したものである。これらを見て、次の(a)、(b)の各問いに答えなさい。

〈資料1〉

	都市の位置	
	緯度	経度
札幌	北緯 43°	東経 141°
ロンドン	北緯 51°	0°
ニューヨーク	北緯 41°	西経 74°

〈資料2〉

	1月	2月	3月	4月	5月	6月	7月	8月	9月	10月	11月	12月
札幌	-3.6	-3.1	0.6	7.1	12.4	16.7	20.5	22.3	18.1	11.8	4.9	-0.9
ロンドン	5.8	6.2	8.0	10.5	13.9	17.0	18.7	18.5	16.2	12.4	8.5	5.7
ニューヨーク	1.0	2.0	5.9	11.6	17.1	22.4	25.3	24.8	20.8	14.7	9.2	3.7

(注：単位は℃) (資料1、資料2は、『理科年表』ほかから作成)

(a) 札幌とニューヨークの時差を正しく述べた文はどれか、次のア～エから最も適当なものを1つ選び、その記号を書きなさい。

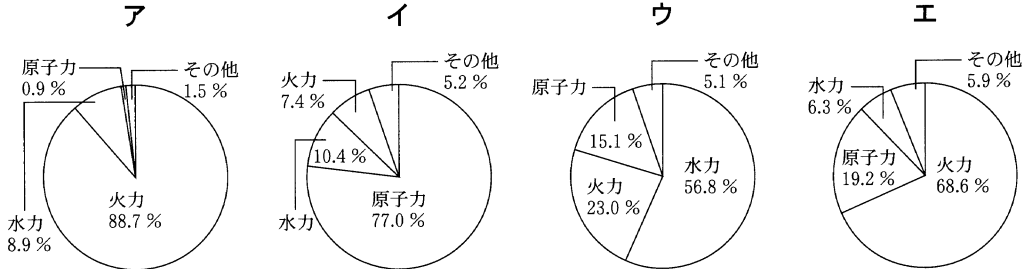
- ア. 札幌の時刻は、ニューヨークの時刻よりも7時間早い。
- イ. 札幌の時刻は、ニューヨークの時刻よりも7時間遅い。
- ウ. 札幌の時刻は、ニューヨークの時刻よりも14時間早い。
- エ. 札幌の時刻は、ニューヨークの時刻よりも14時間遅い。

(b) 12月から3月において、ロンドンが、札幌やニューヨークと比べて温暖なのはなぜか、その理由を、海流と風に着目して、「ロンドンは、」に続けて書きなさい。

(2) 略地図に示したアメリカについて、次の(a), (b)の各問いに答えなさい。

(a) 資料3のア～エは、アメリカ、日本、カナダ、フランスのいずれかの国における発電量の内訳を示したものである。アメリカにあてはまるものはどれか、最も適当なものを1つ選び、その記号を書きなさい。


〈資料3〉



〔注：数値は2015年のもの〕(『世界国勢図会 2018/19』から作成)

(b) けんたさんは、アメリカが農産物の世界有数の生産国であることを知り、穀物の生産について調べ、資料4にまとめた。資料4のあ、いは、小麦ととうもろこしのいずれかを示しており、X、Yは、世界における、生産量の国別割合と輸出量の国別割合のいずれかを示している。小麦にあてはまるのはあ、いのどちらか、また、生産量の国別割合にあてはまるのはX、Yのどちらか、下のア～エから最も適当な組み合わせを1つ選び、その記号を書きなさい。

〈資料4〉



〔注：数値は2016年のもの〕(『世界国勢図会 2018/19』から作成)

〔ア. 小麦－あ 生産量－X イ. 小麦－あ 生産量－Y〕
〔ウ. 小麦－い 生産量－X エ. 小麦－い 生産量－Y〕

(3) 略地図に で示した A, B, C の陸地を面積の大きい順に並べると、略地図上では B→A→C の順に見えるが、実際には B→C→A の順になる。なるみさんは、その理由を資料5にまとめた。資料5の **I**, **II** にあてはまる言葉は何か、**I** については下のア～ウから、**II** については下のエ～カから、最も適当なものをそれぞれ1つずつ選び、その記号を書きなさい。

〈資料5〉

略地図は、**I** 地図で、**II** ほど実際の面積より大きく表されるから。

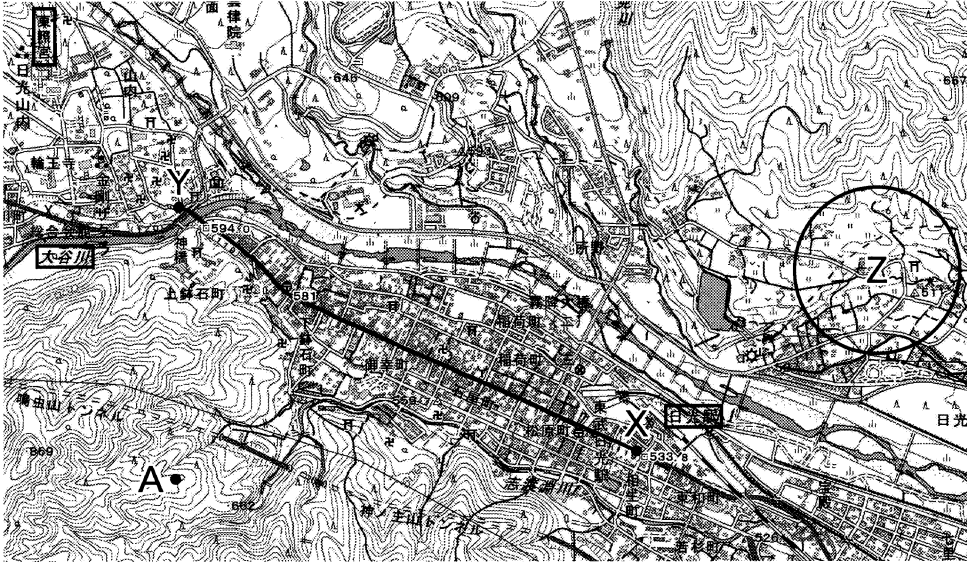
I **II**
〔ア. 面積が正しい 〕 〔エ. 本初子午線から離れる〕
〔イ. 緯線と経線が直角に交わる 〕 〔オ. 低緯度になる〕
〔ウ. 中心からの距離と方位が正しい〕 〕 〔カ. 高緯度になる〕

次のページへ→

2 あとの各問いに答えなさい。(9点)

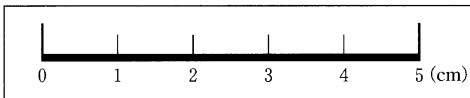
(1) 資料1は、世界遺産に登録されている「日光の社寺」がある日光市の一部を示した2万5千分の1地形図である。また、資料2は、5cmの長さを示したものさしである。この地形図について、次の(a)、(b)の各問いに答えなさい。

〈資料1〉




(国土地理院 電子地形図 25000 から作成)

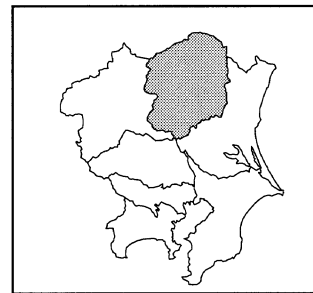
〈資料2〉



(a) 略地図1は、関東地方を示したものであり、日光市は、略地図1に

図1に  で示した県に属している。日光市の属する県の名称は何か、次のア～エから最も適当なものを1つ選び、その記号を書きなさい。

- | | |
|--------|--------|
| ア. 茨城県 | イ. 群馬県 |
| ウ. 埼玉県 | エ. 栃木県 |

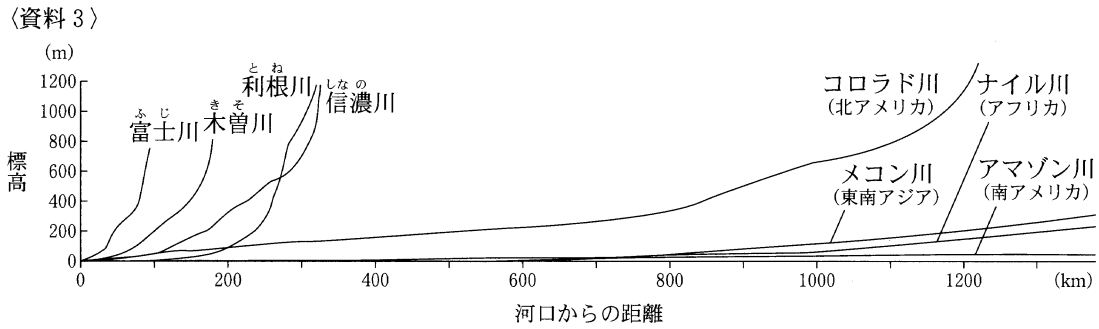


(b) 資料1から読み取れることを述べた文はどれか、次のア～カから適当なものを2つ選び、その記号を書きなさい。

- ア. 日光駅から見て、東照宮は北東の方角にある。
- イ. A地点の標高は、600 mである。
- ウ. X地点から——に沿ってY地点へ向かう途中に、郵便局が2か所、病院が1か所ある。
- エ. ○で囲まれたZ地域に、水田や畑がある。
- オ. 大谷川は、西側が上流である。
- カ. 日光駅から東照宮までの実際の直線距離は、5 km 以上ある。

(2) 日本の川と、川がつくる地形について、次の(a)、(b)の各問いに答えなさい。

(a) 資料3は、日本と世界のおもな川の、河口からの距離と標高を示した模式図である。日本の川には、世界のおもな川と比べて、どのような特徴があるか、資料3から読み取り、書きなさい。



(『理科年表』ほかから作成)

(b) 資料4は、川が山間部から平野や盆地に出た (資料4)

ところに、土砂がたまってつくられた地形の写真である。資料4に示した地形における、土砂のつぶの大きさと土地利用について正しく述べた文はどれか、次のア～エから最も適当なものを1つ選び、その記号を書きなさい。

扇状地の写真

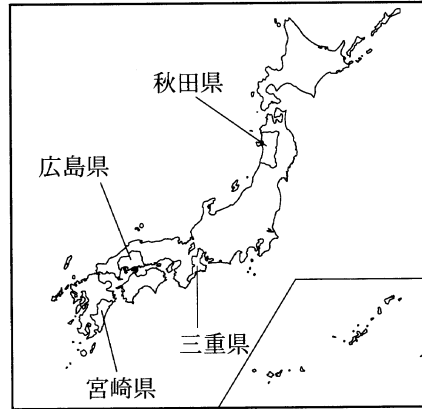
- ア. つぶの大きい砂や石からできており、おもに水田として利用される。
- イ. つぶの大きい砂や石からできており、おもに畑や果樹園として利用される。
- ウ. つぶの小さい砂や泥からできており、おもに水田として利用される。
- エ. つぶの小さい砂や泥からできており、おもに畑や果樹園として利用される。

次のページへ→

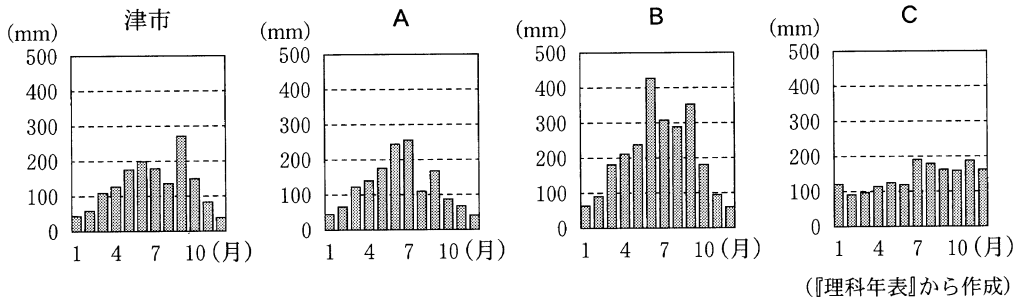
(3) 略地図 2 に示した秋田県、三重県、広島県、^{みやざき}宮崎県に (略地図 2)

ついて、次の(a), (b)の各問いに答えなさい。

(a) 資料 5 は、それぞれの県庁所在地における月別平均降水量を示したものである。資料 5 の B と C にあてはまる県庁所在地名の組み合わせはどれか、下のア～カから最も適当なものを 1 つ選び、その記号を書きなさい。



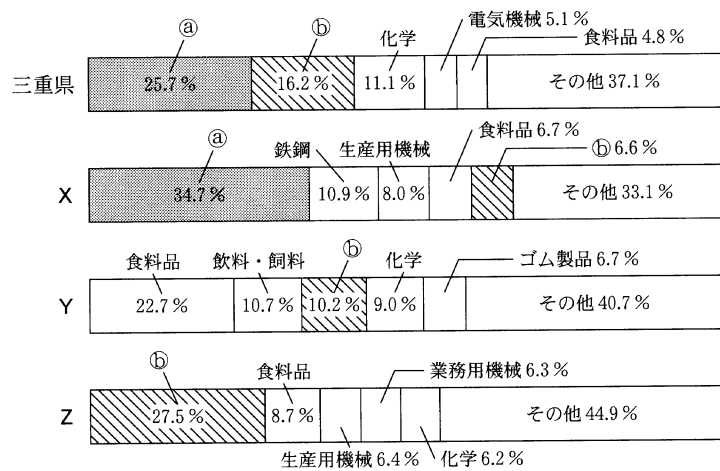
〈資料 5〉



- | | | | |
|------------|---------|------------|---------|
| ア. B - 秋田市 | C - 広島市 | イ. B - 秋田市 | C - 宮崎市 |
| ウ. B - 広島市 | C - 秋田市 | エ. B - 広島市 | C - 宮崎市 |
| オ. B - 宮崎市 | C - 秋田市 | カ. B - 宮崎市 | C - 広島市 |

(b) 資料 6 は、それぞれの県に (資料 6)

における製造品出荷額等割合を示したものであり、①, ②は、電子部品、輸送用機械のいずれかである。資料 6 の Z にあてはまる県名と②にあてはまる製造品の組み合わせはどれか、次のア～カから最も適当なものを 1 つ選び、その記号を書きなさい。



(注: 数値は 2016 年のもの)
(『データでみる県勢 2019』ほかから作成)

- | | | | |
|------------|----------|------------|-----------|
| ア. Z - 秋田県 | ① - 電子部品 | イ. Z - 秋田県 | ② - 輸送用機械 |
| ウ. Z - 広島県 | ① - 電子部品 | エ. Z - 広島県 | ② - 輸送用機械 |
| オ. Z - 宮崎県 | ① - 電子部品 | カ. Z - 宮崎県 | ② - 輸送用機械 |

問題は、次のページに続きます。

3

次の表のA～Fは、こはるさんが、歴史的分野を学習したときの内容をまとめたものの一
 ある。これを見て、あとの各問いに答えなさい。(9点)

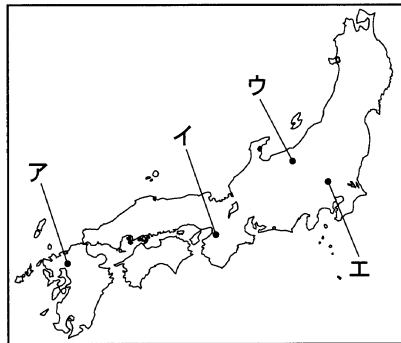
A	大和政権(ヤマト王権)の勢力が広がるにつれて、各地に古墳 <small>こふん</small> がつくられるようになった。
B	奈良時代 <small>なら</small> には、和歌 <small>わか</small> が盛んになり、歌集 <small>うたあふみ</small> がつくられた。
C	室町時代 <small>むろまち</small> には、明 <small>みん</small> との間で貿易 <small>ぼうえき</small> が行われた。
D	江戸時代 <small>えど</small> には、将軍 <small>しょうぐん</small> に任命された老中 <small>らうちゆう</small> が政治を行なった。
E	明治時代 <small>めいし</small> には、政府は近代国家をめぐして政治や外交を行なった。
F	戦後の高度経済成長によって、国民の所得は増え、生活も大きく変わった。

(1) Aについて、資料1は、日本最大の古墳である大仙古墳だいせん(仁徳陵古墳にんとくりょう)の写真である。大仙古墳を示した場所はどれか、略地図に示したア～エから最も適当なものを1つ選び、その記号を書きなさい。

〈資料1〉

大仙古墳(仁徳陵古墳)の写真

〈略地図〉



(2) Bについて、資料2は、天皇や貴族、民衆の和歌を4500首ほど集めた歌集に収められている一首である。資料2の和歌が収められている歌集を何というか、その名称を漢字で書きなさい。

〈資料2〉

にの母もいな
 まった。そ
 たままそ
 どもたちを
 りついで泣
 (訳) すそに
 意母奈之志
 意伎弓曾伎怒也
 奈古良乎
 須宗余等里都伎
 可良己呂武

(3) Cについて、資料3は、こはるさんがまとめたものの一である。資料3の **I** , **II** にあてはまる言葉の組み合わせはどれか、次のア～エから最も適当なものを1つ選び、その記号を書きなさい。

〈資料3〉

足利義満あしかがよしみつは、明ちようこうに朝貢する形をとって貿易を始め、民間貿易船と区別するために **I** という証明書を持たせた。日本からは、銅や **II** などを輸出した。

- | | |
|----------------------------------|---------------------------------|
| 〔ア. I - 勘合 II - 刀剣 | イ. I - 勘合 II - 生糸 |
| | |

(4) Dについて、資料4は、老中の水野忠邦が行った政治についてまとめたものの一部である。資料4に示したように、水野忠邦が、株仲間に解散を命じたのはどのような目的があったからか、その1つとして考えられることを、「物価」という言葉を用いて、書きなさい。

〈資料4〉

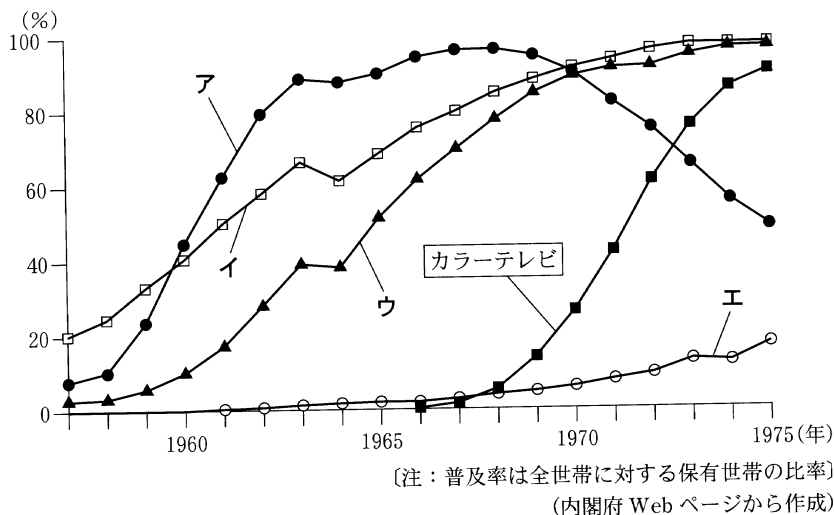
水野忠邦は、営業を独占している株仲間に解散を命じた。

(5) Eについて、明治時代における、政府の外交について正しく述べた文はどれか、次のア～エから最も適当なものを1つ選び、その記号を書きなさい。

- ア. 岩倉使節団を朝鮮に派遣して日朝修好条規を結び、朝鮮を開国させた。
- イ. ロシアと樺太・千島交換条約を結び、樺太をロシアに譲る一方、千島列島のすべてを日本領とした。
- ウ. 陸奥宗光外相のもとで、日清戦争の直前に関税自主権の回復に成功した。
- エ. ロシア、ドイツ、フランスから、下関条約で日本が獲得した台湾を清に返還するよう勧告され、これを受け入れた。

(6) Fについて、資料5は、家庭電化製品の普及率を示したものであり、ア～エは、エアコン、白黒テレビ、電気洗濯機、電気冷蔵庫のいずれかである。白黒テレビにあてはまるものはどれか、最も適当なものを1つ選び、その記号を書きなさい。また、そのように判断した理由を、「カラーテレビ」という言葉を用いて、書きなさい。

〈資料5〉



次のページへ→

4 次のカードは、たろうさんが歴史的分野の学習を行ったときに設定したテーマを示したものである。これらを見て、あとの各問いに答えなさい。(9点)

テーマ1	中国文明のおこり
------	----------

テーマ2	大航海時代と日本
------	----------

テーマ3	アメリカ合衆国の発展
------	------------

テーマ4	二度の世界大戦
------	---------

(1) テーマ1について、資料1は、漢字のもととなった甲骨文字が刻まれた牛こうこつの骨の写真である。黄河流域こうがにおこり、甲骨文字がつくられた国の名称は何か、次のア～エから最も適当なものを1つ選び、その記号を書きなさい。

- ア. 殷 イ. 秦
ウ. 漢 エ. 隋

甲骨文字が
刻まれた
牛の骨の写真

(2) テーマ2について、ポルトガルやスペインなどヨーロッパの人たちが、海路によって世界に進出した大航海時代のころに、日本で起こったできごとを述べた文はどれか、次のア～エから最も適当なものを1つ選び、その記号を書きなさい。

- ア. 平清盛が、日宋貿易を進めるために、兵庫に港を整え、瀬戸内海の航路を整備した。
イ. 北条時宗が、元寇に備えて、博多湾沿いに石の防壁を築かせた。
ウ. 織田信長が、長篠の戦いで、足軽の鉄砲隊を活用して武田氏の騎馬隊に勝利した。
エ. 伊能忠敬が、全国の海岸線を測量し、正確な日本地図をつくった。

(3) テーマ3について、資料2は、19世紀に起

こったアメリカでの南北戦争について、たろうさんがまとめたものの一部である。資料2の X ~ Z にあてはまる言葉の組み合わせはどれか、次のア～エから最も適当なものを1つ選び、その記号を書きなさい。

X を主張して、奴隷制度に反対する北部と、 Y を主張して、奴隷制度に賛成する南部の対立により起こった南北戦争は、北部、南部ともに多大な被害を出した後、 Z の勝利で終わった。

- ア. X - 自由貿易 Y - 保護貿易 Z - 南部
イ. X - 自由貿易 Y - 保護貿易 Z - 北部
ウ. X - 保護貿易 Y - 自由貿易 Z - 南部
エ. X - 保護貿易 Y - 自由貿易 Z - 北部

(4) テーマ4について、資料3は、たろうさんが、二度の世界大戦の間に起こったできごとをまとめたものの一環である。これを見て、次の(a)~(c)の各問いに答えなさい。

〈資料3〉

西暦	おもなできごと
1914年	第一次世界大戦が始まる
1920年	あが発足する
1929年	世界恐慌が起こる
1933年	①日本があを脱退する
1945年	第二次世界大戦が終わる

(a) 資料3の「あ」にあてはまる、アメリカのウィルソン大統領の提案により、平和と国際協調を目的として設立された機構を何というか、その名称を漢字で書きなさい。

(b) 次のア~エのカードは、資料3の二度の世界大戦の間における、日本で起こったできごとを示したものである。ア~エのカードを、書かれた内容の古いものから順に並べると、どのようになるか、その記号を書きなさい。

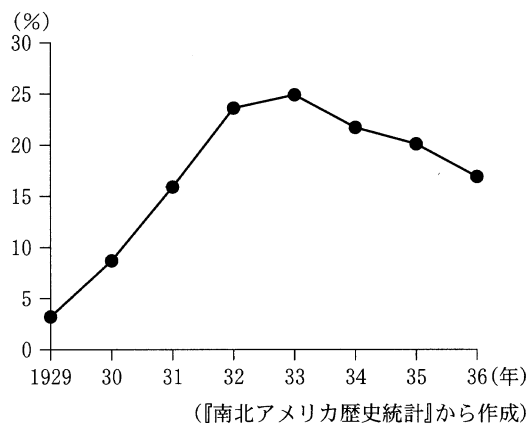
ア	ほとんどの政党や政治団体が解散して、大政翼賛会という組織にまとめられた。	イ	満州に配置されていた関東軍は、清の最後の皇帝であった溥儀を元首とする満州国の建国を宣言した。
ウ	陸軍の青年将校が、大臣などを殺害し、東京の中心部を占拠する二・二六事件が起こった。	エ	立憲政友会総裁の原敬は、立憲政友会の党員が閣僚のほとんどを占める本格的な政党内閣を組織した。

(c) 資料3の下線部①について、アメリカのルーズベルト大統領は、世界恐慌への対策として、1933年からニューディール(新規まき直し)政策を行った。資料4は、ニューディール政策によって建設されているダムの写真、資料5は、アメリカの失業率の推移を示したものである。資料4に示したように、ニューディール政策によって、ダムが建設されたのは、どのような目的があったからか、その1つとして考えられることを、資料5から読み取れることにふれて、「公共事業」という言葉を用いて、書きなさい。

〈資料4〉

ニューディール政策によって建設されているダムの写真

〈資料5〉 アメリカの失業率の推移



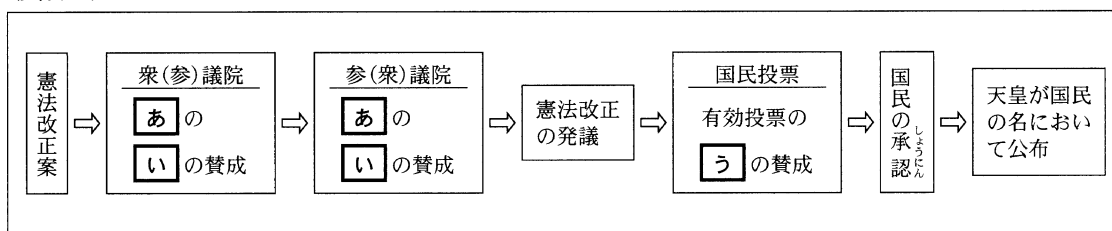
次のページへ→

5 右の表は、こずえさんの学級で行った公民的分野のレポート作成について、班ごとのテーマをまとめたものである。これを見て、あとの各問いに答えなさい。(14点)

テーマ1	国民主権と憲法改正
テーマ2	国会の仕事
テーマ3	労働者の権利
テーマ4	地球環境問題
テーマ5	生活と財政
テーマ6	行政のしくみ
テーマ7	社会権

(1) テーマ1について、資料1は、憲法改正の手続きについて模式的に示したものである。資料1の「あ」～「う」にあてはまる言葉の組み合わせはどれか、下のア～エから最も適当なものを1つ選び、その記号を書きなさい。

〈資料1〉



- | | | | | | | |
|----|---|-------|---|---------|---|---------|
| ア. | あ | —出席議員 | い | —過半数 | う | —3分の2以上 |
| イ. | あ | —出席議員 | い | —3分の2以上 | う | —過半数 |
| ウ. | あ | —総議員 | い | —過半数 | う | —3分の2以上 |
| エ. | あ | —総議員 | い | —3分の2以上 | う | —過半数 |

(2) テーマ2について、次の(a), (b)の各問いに答えなさい。

(a) 資料2は、2017年の国会の動きをまとめたものの一部であり、X～Zは国会の種類を示している。資料2のZにあてはまるものはどれか、下のア～エから最も適当なものを1つ選び、その記号を書きなさい。

〈資料2〉

1月	2月	3月	4月	5月	6月	7月	8月	9月	10月	11月	12月
20日 開会		27日 予算可決		26日 改正民法成立	18日 閉会			28日 開会 衆議院の解散	22日 閉会 衆議院総選挙	1日 開会 内閣総理大臣の指名	9日 閉会
←			X	→				Y		← Z →	

(衆議院 Web ページほかから作成)

- 〔ア. 通常国会 イ. 臨時国会 ウ. 特別国会 エ. 参議院の緊急集会〕

(b) 裁判官としての職務を果たさなかつたり、裁判官としてふさわしくない行為をしたりした裁判官を辞めさせるかどうかを、国会が判断する裁判を何というか、その名称を書きなさい。

(3) テーマ3について、資料3は、労働者の権利を保障するための法律の内容をまとめたものの一
部である。資料3にまとめた法律を何というか、その名称を漢字で書きなさい。

〈資料3〉

- ・労働者が使用者との交渉において対等な立場に立つことを促進することにより、労働者の地位を向上させる。
- ・労働者がその労働条件について交渉するために自ら代表者を選出する。

(4) テーマ4について、資料4は、日本で行われた国際会議についてまとめたものの一
部である。資料4と関わりが深い資料はどれか、次のア～エから最も適当なものを1つ選び、その記号を書きなさい。

〈資料4〉

1997年12月、京都市で環境問題に関する国際会議が開催された。この会議では、京都議定書が採択された。

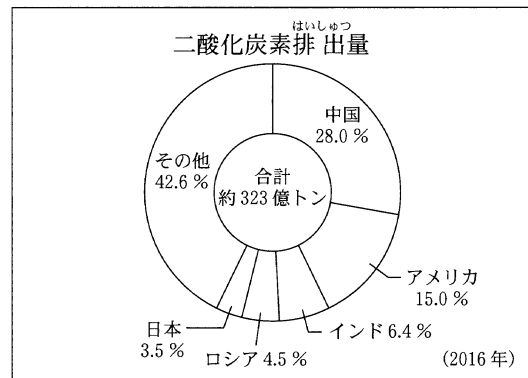
ア

特に水鳥の生息地として国際的に重要な湿地に関する条約

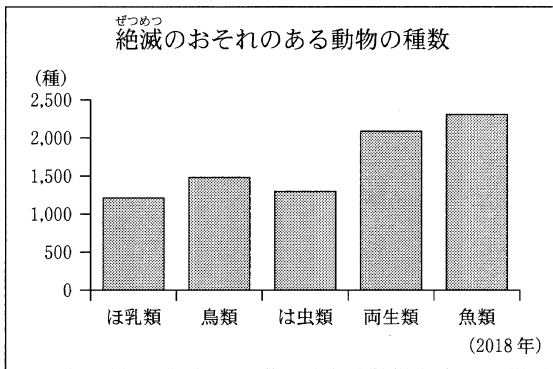
- 条約締約国：168か国
- 日本の登録地数：50か所
- 日本の主な登録地
釧路湿原、藤前干潟、琵琶湖、宍道湖、串本沿岸海域など

(2015年6月26日現在)

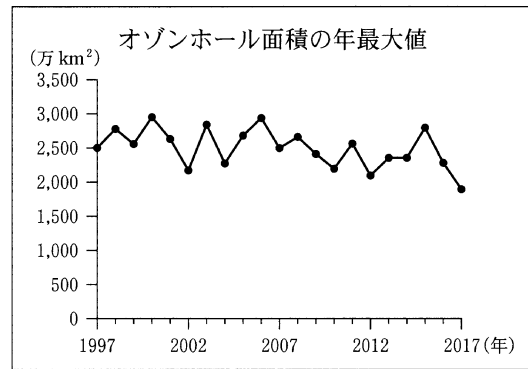
イ



ウ



エ



(5) テーマ5について、資料5は、おもな税金の種類をまとめたものの一
部である。資料5のA～Dは、下のア～エの税金のいずれかがあてはまる。資料5のDにあてはまる税金はどれか、ア～エから最も適当なものを1つ選び、その記号を書きなさい。

〈資料5〉

	国税	道府県税	市町村税
直接税	A	B	D
間接税	揮発油税など	C	入湯税など

〔ア. 固定資産税 イ. 地方消費税 ウ. 自動車税 エ. 所得税〕

次のページへ→

(6) テーマ6について、資料6は、政府の方針を決定する会議についてまとめたものの一部である。資料6にまとめた会議を何というか、その名称を漢字で書きなさい。

- 〈資料6〉
- ・首相が主催
 - ・国務大臣が全員出席
 - ・全会一致を原則

(7) テーマ7について、ゆうたさんは社会権についてのレポートを作成するために、資料7、資料8、資料9、資料10を準備した。これらを見て、次の(a)、(b)の各問いに答えなさい。

〈資料7〉 日本国憲法 第25条

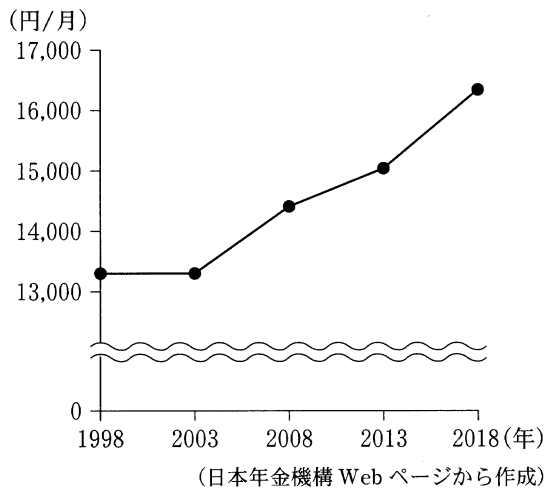
- ①すべて国民は、健康で文化的な最低限度の生活を営む権利を有する。
 ②国は、すべての生活部面について、社会福祉、社会保障及び公衆衛生の向上及び増進に努めなければならない。

〈資料8〉 国民年金(基礎年金)のしくみ

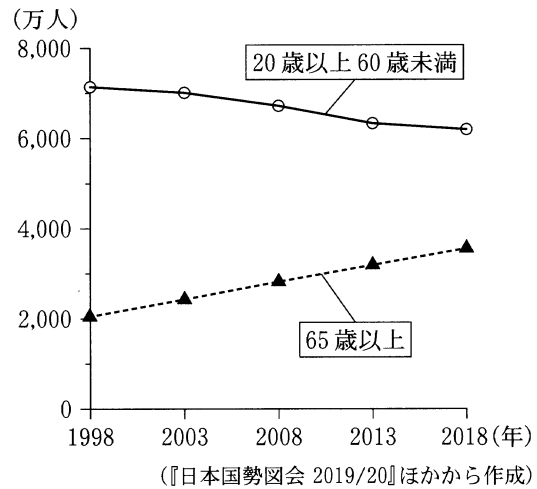
- ・日本に住んでいる20歳以上60歳未満のすべての人が加入する。
- ・国民年金(基礎年金)の支給開始年齢は65歳で、保険料を納付した期間に応じて給付額が決定される。
- ・20歳から60歳の40年間保険料を納付していれば、満額を受給することができる。
- ・納めた保険料は、その年に年金を必要とする人たちに給付される。(世代間扶養方式)

(厚生労働省 Web ページほかから作成)

〈資料9〉 一人あたりの国民年金保険料の推移



〈資料10〉 日本の世代別人口の推移



(a) 資料7の①に示されている、社会権の中で基本となる権利を何というか、その名称を漢字で書きなさい。

(b) 資料8に示した国民年金のしくみのもと、資料9に示したように、日本の一人あたりの国民年金保険料が増加しているのはなぜか、その理由の1つとして考えられることを、資料10から読み取り、「負担者」と「受給者」という2つの言葉を用いて、書きなさい。

—おわり—